


Les additions jusqu'à 41. Combien au total ?


3



2




4



4

2. Assembler les cartes :

Découpe des cartes dans du papier ou du carton. Pose-les comme sur les exemples ci-après et donne le résultat.



$$2 + 2 = \underline{4}$$



$$3 + 1 = \underline{4}$$



$$1 + 2 = \underline{3}$$



$$1 + 3 = \underline{4}$$



$$1 + 2 + 1 = \underline{4}$$



$$2 + 1 + 1 = \underline{4}$$



$$2 + 1 = \underline{3}$$



$$1 + 1 + 2 = \underline{4}$$



$$1 + 1 + 1 = \underline{3}$$

3. Calcule les additions suivantes :

$$1 + 3 = \underline{4}$$

$$1 + 1 = \underline{2}$$

$$0 + 2 = \underline{2}$$

$$2 + 1 = \underline{3}$$

$$4 + 0 = \underline{4}$$

$$1 + 2 = \underline{3}$$

$$3 + 1 = \underline{4}$$

$$1 + 2 = \underline{3}$$

$$1 + 0 = \underline{1}$$

$$0 + 3 = \underline{3}$$

$$2 + 2 = \underline{4}$$

$$3 + 1 = \underline{4}$$