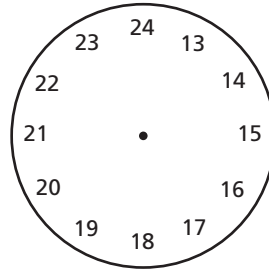
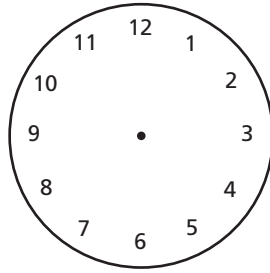
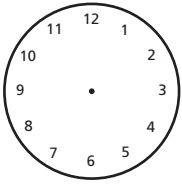
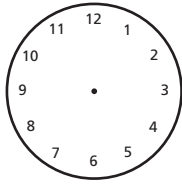


L'heure

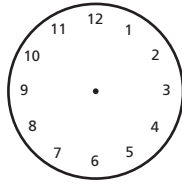
1 journée a exactement 24 heures

1. Dessine les aiguilles de l'heure :

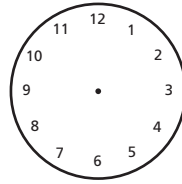
4 heures



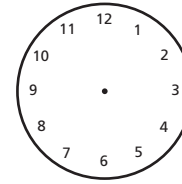
12 heures



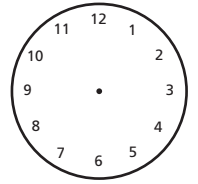
19 heures



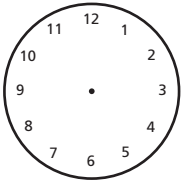
1 heure



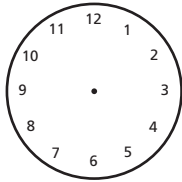
15 heures



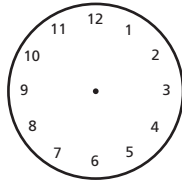
21 heures



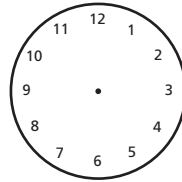
23 heures



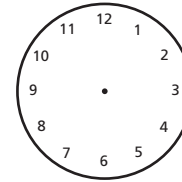
5 heures



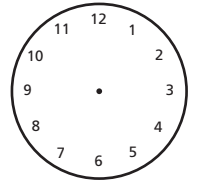
2 heures



13 heures



18 heures



22 heures

2. Combien d'heures se sont-ils écoulés ?

Marcel va faire du ski entre 12 et 16 heures. \_\_\_\_\_

Christine prend des leçons de piano entre 13 et 15 heures. \_\_\_\_\_

Les heures d'ouverture du magasin sont de 8 H à 19 heures. \_\_\_\_\_

Le film commence à 17 H et se termine à 19 heures. \_\_\_\_\_

Mamie promène le chien entre 10 et 13 heures. \_\_\_\_\_

3. Calcule les problèmes suivants :

Martine arrive à 19 heures chez ses amis. Elle a roulé pendant 4 heures. Quand est-elle parti de chez elle ? \_\_\_\_\_

André commence à ranger le dépôt à 14 heures. Il met 4 heures pour le faire. Quand aura-t-il terminé sa besogne ? \_\_\_\_\_

Le peintre commence à peindre la maison à 9 heures. A 15 heures il a terminé. Combien de temps lui a-t-il fallu ? \_\_\_\_\_

Maman rentre à 15 heures à la maison. Elle a fait un tour à vélo de 3 heures. Quand est-elle partie de la maison ? \_\_\_\_\_

Papa va jouer au tennis à 17 heures. Il arrête la partie à 20 heures. Combien de temps at-il joué au total ? \_\_\_\_\_